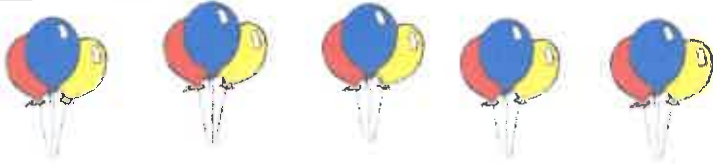


1 Wie viele Luftballons?



$$3 + 3 + 3 + 3 + 3 = 15$$

$$5 \cdot 3 = 15$$

Es sind 15 Luftballons.

2 Wie viele Schlüssel?

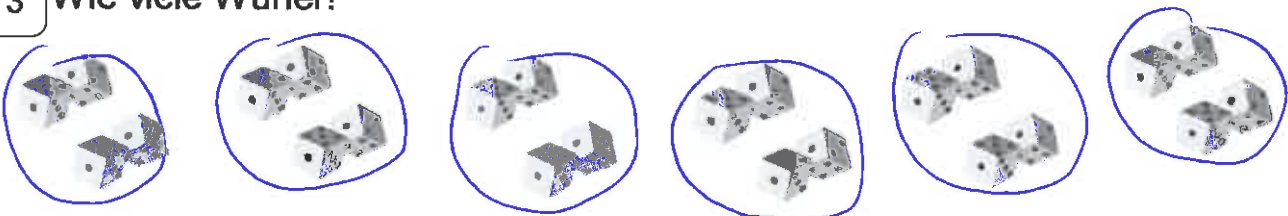


$$2 + 2 + 2 + 2 + 2 + 2 + 2 + 2 = 16$$

$$8 \cdot 2 = 16$$

Es sind 16 Schlüssel.

3 Wie viele Würfel?



$$4 + 4 + 4 + 4 + 4 + 4 = 24$$

$$6 \cdot 4 = 24$$

Es sind 24 Würfel.

4 Wie viele Luftballons?



$$6 + 6 + 6 + 6 + 6 = 30$$

$$5 \cdot 6 = 30$$

Es sind 30 Luftballons.

Schreibe zu jedem Bild eine Mal-Aufgabe.




Ich muss viermal gehen.

$$4 \cdot 2 = 8$$




Ich habe drei Paar Turnschuhe.


$$3 \cdot 2 = 6$$



$$5 \cdot 3 = 15$$



$$2 \cdot 5 = 10$$



$$4 \cdot 4 = 16$$




Ich hole viermal in der Woche Brötchen.

$$4 \cdot 3 = 12$$



Ich hole dreimal in der Woche Brötchen.

$$3 \cdot 4 = 12$$



Ich habe fünf Bleche.

$$5 \cdot 5 = 25$$

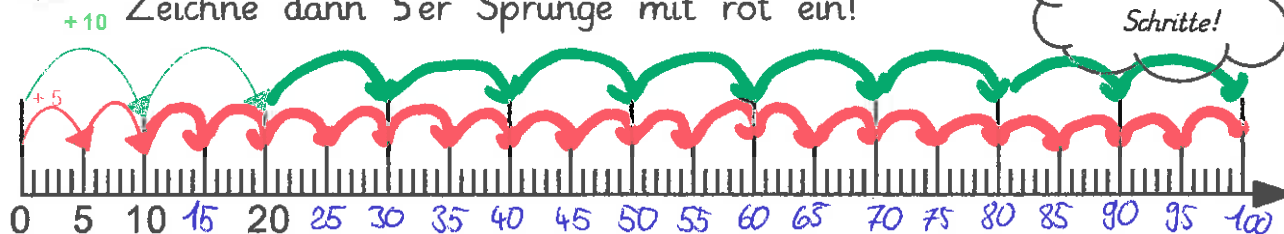


Ich habe drei Bleche.

$$3 \cdot 6 = 18$$

## Verwandte Reihen: 5er und 10er

- 1 Zeichne zuerst 10er Sprünge mit grün ein!  
Zeichne dann 5er Sprünge mit rot ein!



Beschrifte die  
5er und 10er  
Schritte!

- 2 Male die Zahlen der 10er Reihe grün an.  
Male die Zahlen der 5er Reihe rot an.

|    |    |    |    |    |    |    |    |    |     |
|----|----|----|----|----|----|----|----|----|-----|
| 1  | 2  | 3  | 4  | 5  | 6  | 7  | 8  | 9  | 10  |
| 11 | 12 | 13 | 14 | 15 | 16 | 17 | 18 | 19 | 20  |
| 21 | 22 | 23 | 24 | 25 | 26 | 27 | 28 | 29 | 30  |
| 31 | 32 | 33 | 34 | 35 | 36 | 37 | 38 | 39 | 40  |
| 41 | 42 | 43 | 44 | 45 | 46 | 47 | 48 | 49 | 50  |
| 51 | 52 | 53 | 54 | 55 | 56 | 57 | 58 | 59 | 60  |
| 61 | 62 | 63 | 64 | 65 | 66 | 67 | 68 | 69 | 70  |
| 71 | 72 | 73 | 74 | 75 | 76 | 77 | 78 | 79 | 80  |
| 81 | 82 | 83 | 84 | 85 | 86 | 87 | 88 | 89 | 90  |
| 91 | 92 | 93 | 94 | 95 | 96 | 97 | 98 | 99 | 100 |



- 3 Was fällt dir auf? Schreibe in deinen eigenen Worten:

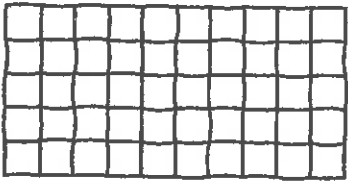
Die Ergebnisse der 10er-Reihe sind das Doppelte  
der Ergebnisse der 5er-Reihe.



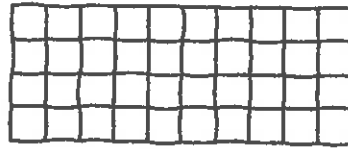
Versuche es zunächst alleine aufzuschreiben,  
was dir auffällt. Wenn du nicht  
weiterkommst, dann schau auf der nächsten  
Seite die Tipp-Gedankenblase an.

4

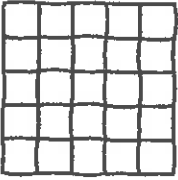
Schreibe die Multiplikationsaufgaben!




$$5 \cdot 10 = \underline{50}$$



$$\underline{4 \cdot 10 = 40}$$



$$\underline{5 \cdot 5 = 25}$$



$$\underline{4 \cdot 5 = 20}$$



$$\underline{2 \cdot 10 = 20}$$




$$\underline{2 \cdot 5 = 10}$$



5

Male die Aufgaben mit den gleichen Ergebnissen in der gleichen Farbe an. Schreibe Sie dann auf. Male das Ergebnis in der gleichen Farbe an.



$$10 \cdot 5 = 50 \quad 5 \cdot 10 = 50$$

$$6 \cdot 5 = 30 \quad 3 \cdot 10 = 30$$

$$0 \cdot 5 = 0 \quad 0 \cdot 10 = 0$$

$$4 \cdot 5 = 20 \quad 2 \cdot 10 = 20$$

$$2 \cdot 5 = 10 \quad 1 \cdot 10 = 10$$

$$8 \cdot 5 = 40 \quad 4 \cdot 10 = 40$$



Zu Nummer 3



Die Ergebnisse der ... Reihe ...  
 ... das Doppelte ...  
 ... die Hälfte ...

# Ein bunter Regenbogen

Übe das Rechnen bis 100

Rechne aus. Suche die Ergebniszahl.  
Färbe passend ein.



$70 + 30 = 100$  (weiß)

$44 + 3 = 47$  (hellblau)

$99 - 70 = 29$  (gelb)

$65 - 33 = 32$  (rot)

$13 + 8 = 21$  (dunkelblau)

$27 + 26 = 53$  (hellgrün)

$50 - 11 = 39$  (hellblau)

$39 + 12 = 51$  (dunkelblau)

$45 + 54 = 99$  (gelb)

$76 - 75 = 1$  (rosa)

$26 - 14 = 12$  (weiß)

$7 + 17 = 24$  (hellblau)

$35 + 1 = 36$  (dunkelblau)

$55 - 29 = 26$  (rot)

$100 - 11 = 89$  (hellblau)

$45 + 46 = 91$  (dunkelblau)

$91 - 60 = 31$  (hellblau)

$24 + 17 = 41$  (rosa)

$70 - 35 = 35$  (hellgrün)

$44 - 22 = 22$  (dunkelblau)

$90 - 34 = 56$  (dunkelblau)

$78 - 76 = 2$  (weiß)

Name: \_\_\_\_\_

$60 - 5 = 55$  (hellblau)

$20 - 11 = 9$  (gelb)

$100 - 40 = 60$  (dunkelblau)

$60 - 33 = 27$  (dunkelblau)

$46 + 11 = 57$  (rosa)

$17 + 17 = 34$  (weiß)

$48 + 17 = 65$  (rot)

$33 + 33 = 66$  (weiß)

$78 + 12 = 90$  (dunkelblau)

$100 - 12 = 88$  (hellblau)

$14 - 7 = 7$  (hellgrün)

$50 - 26 = 24$  (weiß)

$24 + 13 = 37$  (weiß)

$45 + 13 = 58$  (hellblau)

$55 + 22 = 77$  (hellblau)

$38 - 22 = 16$  (hellblau)

$70 - 2 = 68$  (rosa)

$80 - 21 = 59$  (hellblau)

$50 + 30 = 80$  (dunkelblau)

$78 - 78 = 0$  (dunkelblau)

$45 - 12 = 33$  (hellblau)