



### Und jetzt du!

Zeichne die Zeiger ein.  
Ergänze die fehlende Uhrzeit!



14:30 Uhr  
halb 3



14:15 Uhr  
viertel nach 2



19:45 Uhr  
viertel vor 8



10:30 Uhr  
halb 11



13:15 Uhr  
viertel nach 1



20:30 Uhr

Du bist schon so weit??  
Wie die Zeit vergeht ...



### Wie die Zeit vergeht ...



Wie viel Zeit ist zwischen den beiden Uhren vergangen?



2 Stunden




5 Stunden




3 Stunden



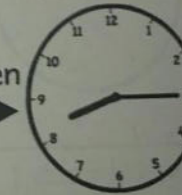
11 Stunden



4 Stunden



8 Stunden





Wie die Zeit vergeht ...

Stelle die Uhr auf die richtige Zeit ein!

	3 Stunden			4 Stunden	
	1 Stunde			7 Stunden	
	11 Stunden			5 Stunden	



Wie die Zeit vergeht ...

Wie viel Zeit ist zwischen den beiden Uhren vergangen?

	3 Stunden 30 Minuten			4 Stunden 30 Minuten	
	6 Stunden 15 Minuten			7 Stunden 0 Minuten	
	5 Stunden 15 Minuten			6 Stunden 45 Minuten	

# Wie die Zeit vergeht ...



Stelle die Uhr auf die richtige Zeit ein!



3 Stunden  
15 Minuten



4 Stunden  
30 Minuten




1 Stunde  
30 Minuten



7 Stunden  
15 Minuten



11 Stunden  
45 Minuten



5 Stunden  
45 Minuten



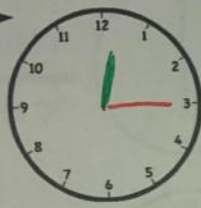
# Und jetzt du!



Wir beginnen um 12 Uhr. Stelle die Uhr immer 15 Minuten weiter. Notiere die Uhrzeit darunter.



12:00 Uhr



12:15 Uhr



12:30 Uhr



12:45 Uhr



13:00 Uhr



13:15 Uhr



13:30 Uhr



13:45 Uhr

Was wäre wenn ... ?



Wir haben nun 14:30 Uhr.  
Doch wie spät war es ...

vor 4 Stunden?



10:30 Uhr

vor 11 Stunden?



15:30 Uhr

vor 30 Minuten?



14:00 Uhr

vor 45 Minuten?



13:45 Uhr

Und wie spät ist es ...

in 4 Stunden?



18:30 Uhr

in 11 Stunden?



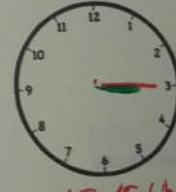
13:30 Uhr

in 30 Minuten?



15:00 Uhr

in 45 Minuten?



15:15 Uhr